




Eignungstest Allgemeine Musiklehre


1) Benennen und notieren Sie folgende Noten einschließlich ihrer genauen Oktavangabe.



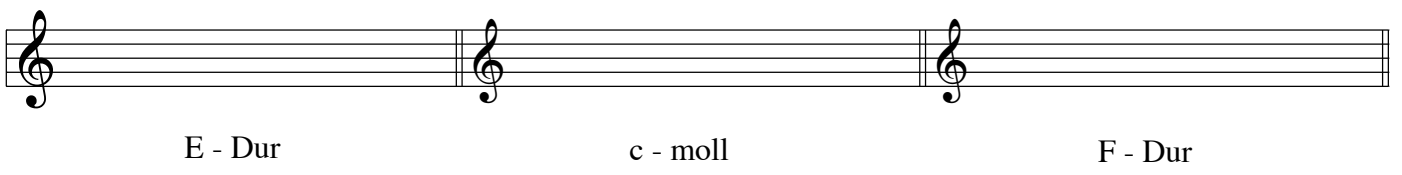
2) Bestimmen Sie folgende Intervalle ("r" = rein, "k" = klein, "g" = groß - zB: "r 5")



3) Bilden Sie zu den notierten Tönen die angegebenen Intervalle.




4) Notieren Sie die Vorzeichen der angegebenen Tonarten (bitte Reihenfolge beachten).




5) Notieren Sie die angegebenen Tonarten (Violin- oder Bassschlüssel)

a) Es - Dur



b) e-moll harmonisch



6) Bilden Sie über den angegebenen Grundtönen einen Dur- bzw Molldreiklang.



7) Ergänzen Sie bitte die fehlenden Taktstriche.



8) Erklären Sie folgende Begriffe:

Largo _____

Allegro _____

crescendo _____

ritardando _____

legato _____

9) Ordnen Sie die folgenden Werke den genannten Komponisten zu:

- a) Die Zauberflöte
- b) Karneval der Tiere
- c) Die Moldau
- d) Weihnachtsoratorium
- e) Freischütz

Johann Sebastian Bach _____ (bitte a) b) eintragen)

Wolfgang Amadeus Mozart _____

Carl Maria von Weber _____

Friedrich Smetana _____

Camille Saint-Saëns _____